

難題一則

梁子傑

香港道教聯合會青松中學

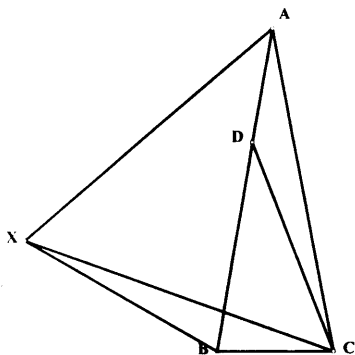
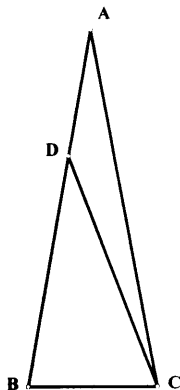
在 $\triangle ABC$ 中， $AB = AC$ ， $\angle A = 20^\circ$ ， D 是 AB 上一點使得 $AD = BC$ ，求 $\angle BDC$ 。

上述問題相當有趣和富挑戰性，我建議大家先試解此題，然後才繼續閱讀以下的解答。

【解法一】

在 B 點的同一側加入一點 X ，使 $\triangle XAC$ 成爲一個等邊三角形。易證 $\angle XCB = 20^\circ$ ，即 $\angle CAD = \angle XCB$ 。已知 $AD = CB$ ，並且 $AC = CX$ ，所以 $\triangle ADC \cong \triangle CBX$ (S.A.S.)。由此得 $\angle ACD = \angle CXB$ 。

另一方面， $AX = AB = AC$ ，即 X 、 B 、 C 三點位於一個以 AC 爲半徑， A 點爲圓心的圓之上，而 $\angle CXB$ 則爲該圓上一圓周角。因爲圓心角 $\angle A = 20^\circ$ ，所以 $\angle ACD$



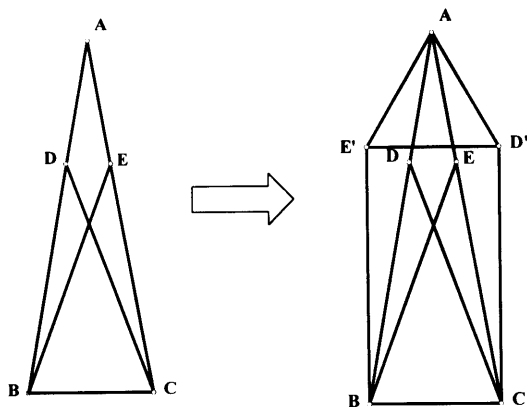
$$= \angle CXB = 20^\circ \div 2 = 10^\circ。$$

最後由 $\triangle ADC$ 的外角關係可得 $\angle BDC = 20^\circ + 10^\circ = \underline{30^\circ}$ 。

[解法二]

在直線 AC 線上加一點 E ，使得 $AE = AD (= BC)$ 。

以 AC 為鏡軸，將 D 點反射至 D' 。又以 AB 為鏡軸，將 E 點反射至 E' 。



易知 $AE' = AD'$ ， $\angle E'AD' = 60^\circ$ ，所以 $\triangle AE'D'$ 為等邊三角形。故此， $E'D' = BC$ 。另外， $\triangle AD'C \cong \triangle ADC \cong \triangle AEB \cong \triangle AE'B$ (S.A.S.)。故此， $E'B = D'C$ ，即 $E'D'CB$ 為一平行四邊形。同時， $\angle ACD' = \angle ACD = \angle ABE = \angle ABE'$ 。因為 $BE' \parallel CD'$ ，所以 $(\angle ACD' + 80^\circ) + (80^\circ + \angle ABE') = 180^\circ \Rightarrow \angle ACD = 10^\circ$ 。最後由 $\triangle ADC$ 的外角關係可得 $\angle BDC = 20^\circ + 10^\circ = \underline{30^\circ}$ 。

[解法三]

在 $\triangle ABC$ 內定一點 P 使得 $\triangle PBC$ 為一等邊

三角形。又在 AC 上定一點 Q 使得 $QC = BC$ 。

由此得 $AD = BC = PB = PC = QC$ 。亦得 $AQ =$

BD 。連結 DP 、 DC 和 DQ 。易證 $\angle PBD = 20^\circ =$

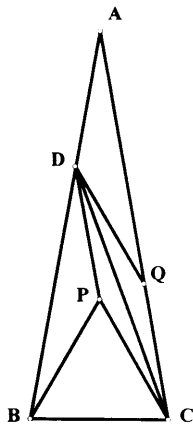
$\angle A$ 。由此可知 $\triangle DAQ \cong \triangle PBD$ (S.A.S.)，並

且 $DQ = DP$ 。再由此推得 $\triangle QDC \cong \triangle PDC$

(S.S.S.)，即 $\angle QCD = \angle PCD$ 。但因為 $\angle PCQ$

$= 20^\circ$ ，所以 $\angle QCD = 20^\circ \div 2 = 10^\circ$ 。最後由 $\triangle ADC$ 的外角關係可得

$\angle BDC = 20^\circ + 10^\circ = \underline{30^\circ}$ 。



以上的三個方法都有一個共通的特點，就是在三角形上增加一個等邊三角形。現時教科書之中，很少提及這種方法。但，這方法並非罕見，好像下面兩題，都可以以適當地加入一個等邊三角形的方法來解決。

1. 在 $\triangle ABC$ 中， $AB = AC$ ， $\angle A = 20^\circ$ ， M 和 N 分別是 AB 和 AC 上的點，使得 $\angle MCB = 60^\circ$ ， $\angle NBC = 50^\circ$ 。求 $\angle NMC$ 。
2. 在四邊形 $BCYX$ 中， $\angle XBY = 12^\circ$ ， $\angle YBC = 36^\circ$ ， $\angle XCB = 48^\circ$ ， $\angle XCY = 24^\circ$ 。求 $\angle XYB$ 。

無獨有偶，以上兩題的答案都是 30° ！到底這是巧合，還是這類問題的答案必定等於 30° 呢？

這問題的答案我不清楚，但我發現一個頂角等於 20° 的等腰三角形，卻有相當美妙的特性。例如在「解法三」的圖中，設 $\angle QDC = x$ ，則 $\angle PDC = x$ ， $\angle AQD = \angle BDP = 30^\circ - x$ 。

但從 $\triangle DQC$ 的外角關係可知 $30^\circ - x = x + 10$ ，即 $x = 10^\circ$ 。由此，我們更證明了 $\triangle DQC$ 和 $\triangle DPC$ 亦是等腰三角形，而且 AD 、 DQ 、 DP 、 QC 、 PC 、 PB 和 BC 的長度都相等。

仔細看看， $\triangle CPQ$ 和 $\triangle DQP$ 又是兩個頂角等於 20° 的等腰三角形！

還有，上面三個解法中，最重要的一步，明顯就是證出 $\angle ACD = 10^\circ$ 。

假如我們將此結果看成頂角等於 20° 的等腰三角形內的一個定理，

我們更可以利用它來解以下的問題：

在 $\triangle ABC$ 中， $AB = AC$ ， $\angle BAC = 80^\circ$ 。若果 P 為三角形內一點，令 $\angle PBC = 10^\circ$ ， $\angle PCB = 30^\circ$ ，那麼求 $\angle PAC$ 。（答： 70° ）

參考書目

《中學數學特長生讀本習題集 初中二年級》經濟日報出版社

鳴謝：文中「解法一」和「解法二」分別由蕭文強教授和郭家強老師提供，作者特此致謝。